

APARATO REPRODUCTOR FEMENINO

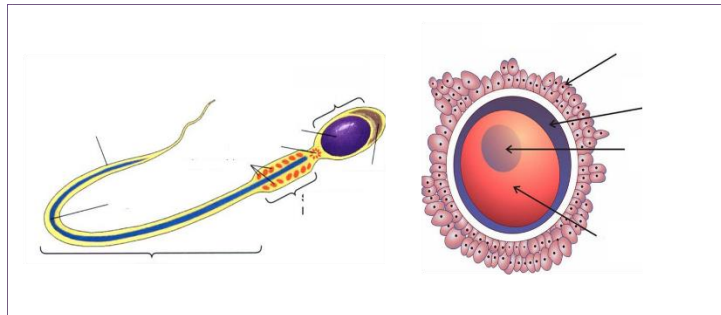
Es un conjunto de diferentes órganos encargados de la función vital de la reproducción. La condición de función vital es debida no a un solo individuo sino al conjunto de la especie. Un individuo puede no tener hijos y no se muere por ello; pero si ningún individuo de la especie tuviera hijos la especie desaparecería. El aparato reproductor femenino sirve para producir las células sexuales femeninas, los óvulos para guardar y desarrollar el nuevo ser hasta el momento del parto. Está compuesto por trompa de falopio, ovario, vulva, etc.

1. Recorta las partes del aparato reproductor femenino y pégalas

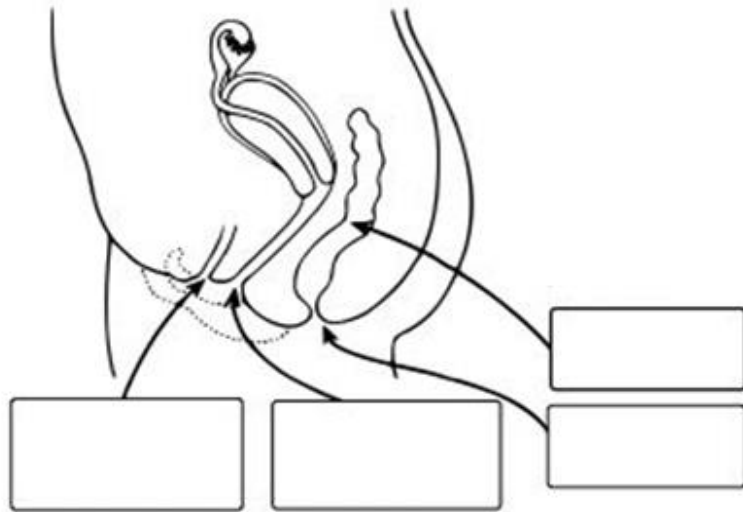
2. Ordena correctamente las glándulas y conductos que atraviesa el espermatozoide desde que se crea hasta que se fecunda.

Útero – testículos – trompas de Falopio – vesículas seminales – uretra – vagina
próstata – conductos deferentes.

3. Completa el esquema



Cuando el ovulo no fecundado llega al útero el tejido sanguíneo acumulado en las paredes d útero se desprende y baja por la vagina esta etapa se conoce como menstruación. Este proceso se repite cada mes es por eso que se llama ciclo menstrual con duración de tres a siete días. Cuando un espermatozoide se une a un ovulo se inicia un embarazo y se suspende la menstruación.



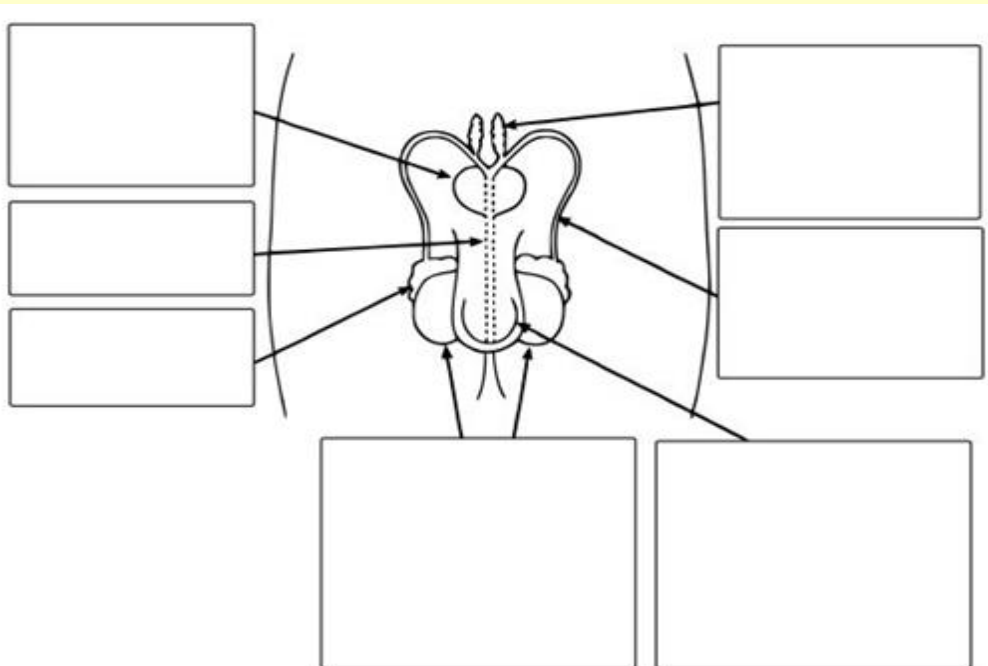
2. recorta las partes dl aparato reproductor femenino y pégalas.

APARATO REPRODUCTOR MASCULINO

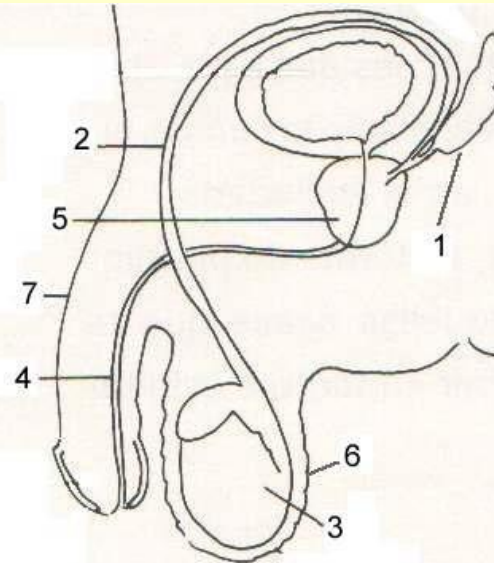
El sistema reproductor masculino sirve para producir las células sexuales masculinas y los espermatozoides. Está compuesto por el pene: un órgano musculoso con un conducto interior llamado uretra, por el cual sale al exterior el semen.

Los testículos: órganos encargados de producir los espermatozoides y están alojados en una bolsa llamada escroto. También están los conductos deferentes: tubos por los que se comunican los testículos con la uretra. Finalmente, la próstata y las vesículas seminales son órganos que producen el semen o líquido en el que nadan y se transportan los espermatozoides.

1. Recorta las partes del aparato reproductor masculino



2. Completa la imagen



3. Completa la sopa de letras

U	B	K	F	K	Q	V	B	D	C	Z	K	R	W	I
C	E	X	M	J	C	D	D	K	C	X	N	K	G	C
A	D	G	D	S	H	E	W	E	W	E	X	X	V	L
G	N	R	Q	B	F	S	I	M	X	D	N	O	T	I
K	A	A	D	T	H	Z	X	G	J	S	E	E	G	K
P	L	C	O	B	Z	N	F	Q	R	T	S	S	P	N
H	G	S	K	R	J	A	W	L	E	H	C	V	W	I
I	E	V	E	P	D	O	R	S	I	S	R	C	I	Q
H	C	C	S	O	V	R	T	T	Q	D	O	C	Z	T
V	O	J	V	A	T	I	T	J	E	S	T	V	M	L
R	E	O	R	C	C	C	Y	L	D	R	O	A	C	E
V	G	I	Z	U	X	P	E	E	F	J	U	G	D	E
C	O	K	L	F	T	O	T	R	M	L	K	I	H	T
S	H	O	P	M	C	D	K	T	W	L	Y	N	J	C
R	S	O	M	C	G	M	N	S	U	M	J	A	A	G

- | Escroto
- Glande
- Ovarios
- Pene
- Recto
- Testículos
- Uretra
- Vagina